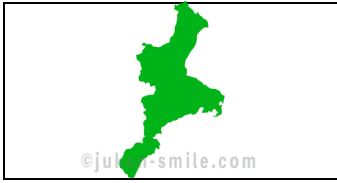


都道府県の形（シルエット）クイズ


次の形の都道府県名を書きましょう。

①



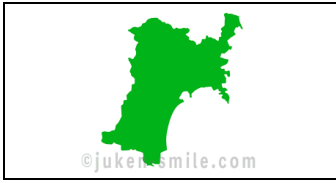
()

②




()

③




()

④



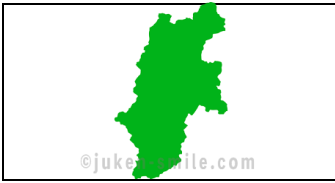
()

⑤



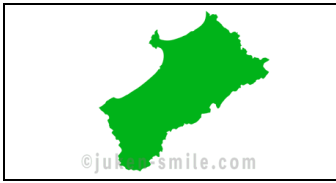
()

⑥



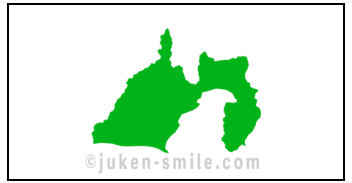
()

⑦




()

⑧



()

⑨




()

⑩



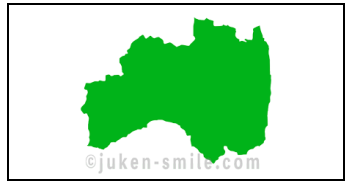
()

⑪



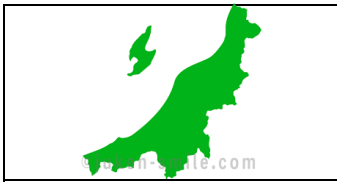
()

⑫



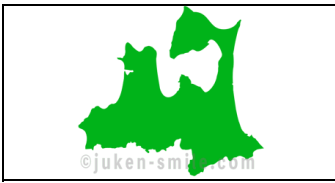
()

⑬



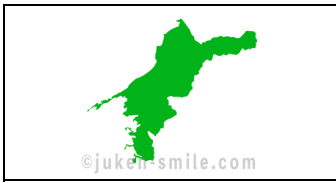
()

⑭



()

⑮



()

⑯



()

⑰



()

⑱



()

⑲



()

⑳

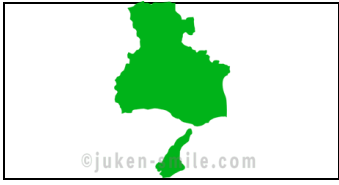


()

都道府県の形（シルエット）クイズ

次の形の都道府県名を書きましょう。

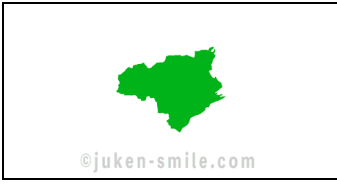
②1



©juken-smile.com

()

②2



©juken-smile.com

()

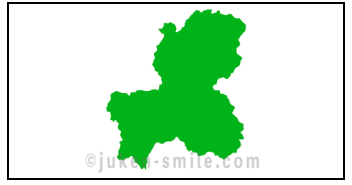
②3



©juken-smile.com

()

②4



©juken-smile.com

()

②5



©juken-smile.com

()

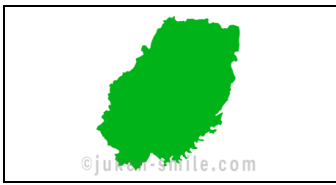
②6



©juken-smile.com

()

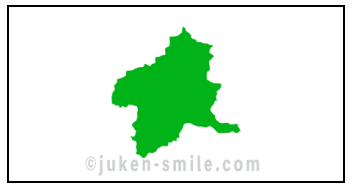
②7



©juken-smile.com

()


②8



©juken-smile.com

()

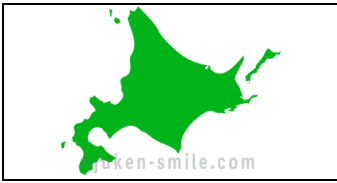
②9



©juken-smile.com

()

③0



©juken-smile.com

()

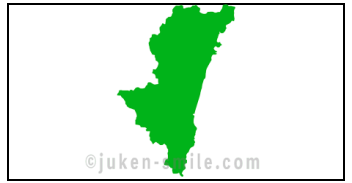
③1



©juken-smile.com

()

③2



©juken-smile.com

()

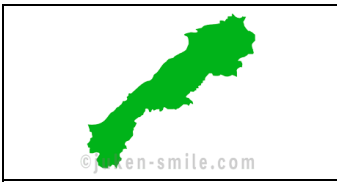
③3



©juken-smile.com

()

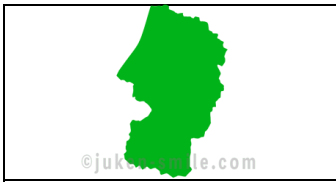
③4



©juken-smile.com

()

③5



©juken-smile.com

()

③6



©juken-smile.com

()

③7



©juken-smile.com

()

③8



©juken-smile.com

()

③9



©juken-smile.com

()

④0



©juken-smile.com

()

都道府県の形（シルエット）クイズ

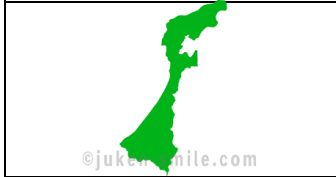
次の形の都道府県名を書きましょう。

④1



()

④2



()

④3



()

④4



()

④5



()

④6



()

④7

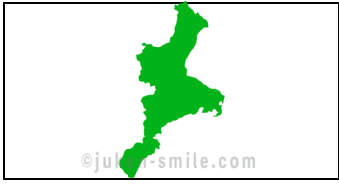


()

都道府県の形（シルエット）クイズ


次の形の都道府県名を書きましょう。

①



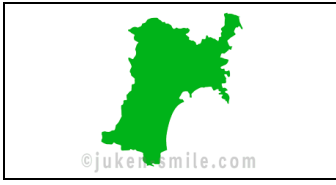
三重県

②




大阪府

③




宮城県

④



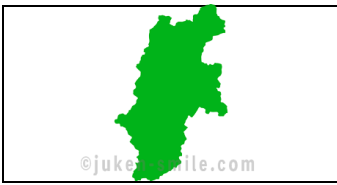
福岡県

⑤



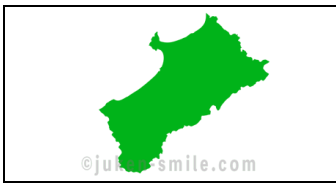
奈良県

⑥



長野県

⑦




秋田県

⑧




静岡県

⑨




富山県

⑩



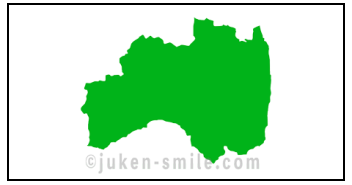
沖縄県

⑪



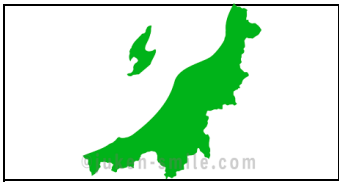
岩手県

⑫



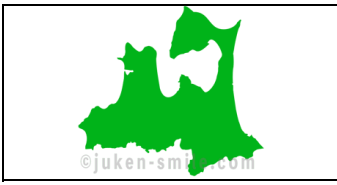
福島県

⑬



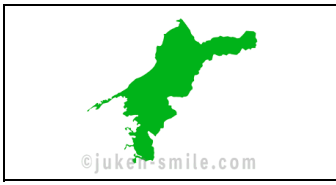
新潟県

⑭



青森県

⑮



愛知県

⑯



千葉県

⑰



愛知県

⑱



東京都

⑲



香川県

⑳

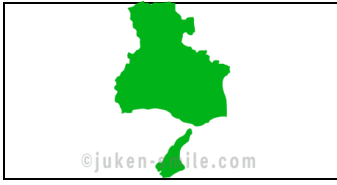


長崎県

都道府県の形（シルエット）クイズ

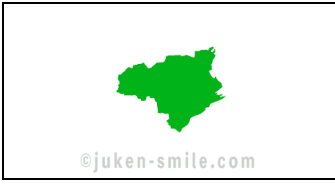
次の形の都道府県名を書きましょう。

②1



兵庫県

②2



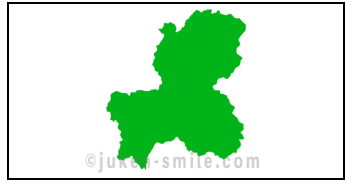
徳島県

②3




京都府

②4



岐阜県

②5



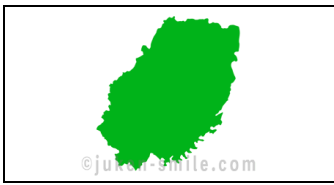
鳥取県

②6



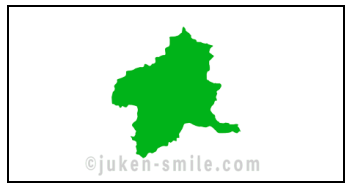
新潟県

②7




岩手県

②8



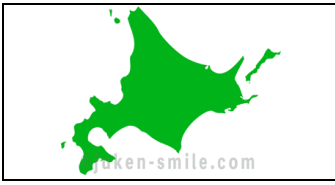
群馬県

②9




岡山県

③0



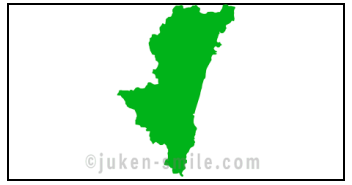
北海道

③1



大分県

③2



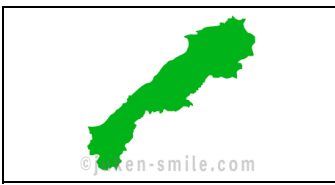
宮崎県

③3



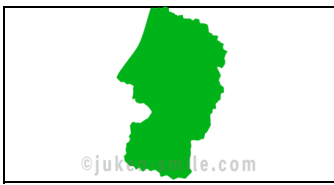
山梨県

③4



島根県

③5



山形県

③6



山口県

③7




熊本県

③8



鹿児島県

③9



神奈川県

④0



福井県

都道府県の形（シルエット）クイズ

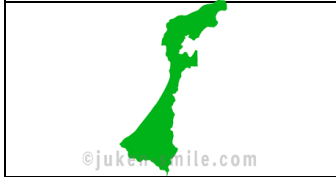
次の形の都道府県名を書きましょう。

④①



埼玉県

④②



石川県

④③



佐賀県

④④



広島県

④⑤



茨城県

④⑥



高知県

④⑦



和歌山県