

都道府県の形（シルエット）クイズ

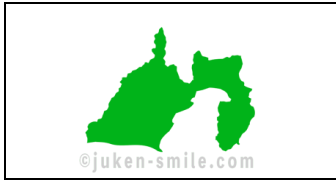
次の形の都道府県名を書きましょう。

①



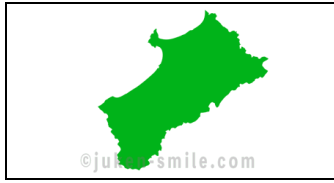
()

②



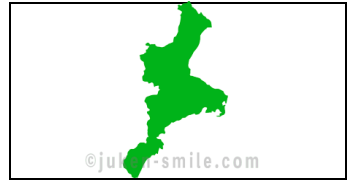
()

③



()

④



()

⑤



()

⑥



()

⑦



()

⑧



()

⑨



()

⑩



()

⑪



()

⑫



()

⑬



()

⑭




()

⑮



()

⑯



()

⑰



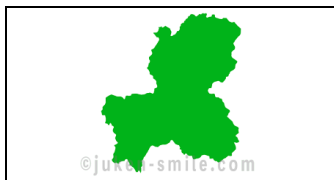
()

⑱



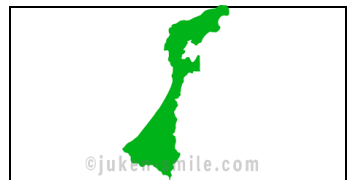
()

⑲



()

⑳




()

都道府県の形（シルエット）クイズ

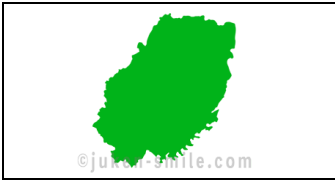
次の形の都道府県名を書きましょう。

㉑



()

㉒




()

㉓



()

㉔



()

㉕



()

㉖



()

㉗



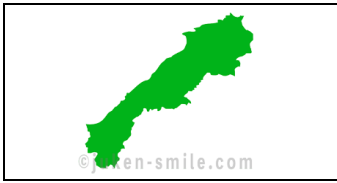
()

㉘



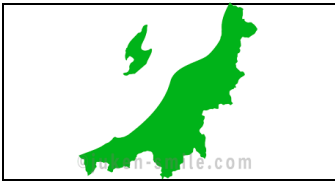
()

㉙



()

㉚



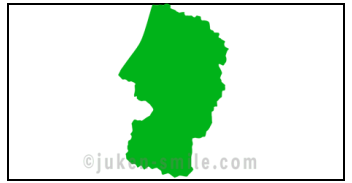
()

㉛



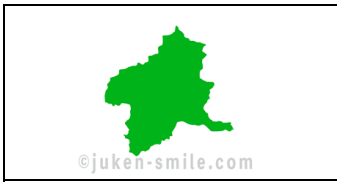
()

㉜



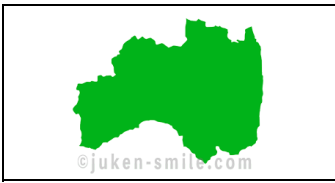
()

㉝



()

㉞



()

㉟



()

㊱



()

㊲



()

㊳



()

㊴



()

㊵



()

都道府県の形（シルエット）クイズ

次の形の都道府県名を書きましょう。

④1



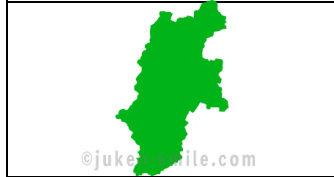
()

④2



()

④3



()

④4



()

④5



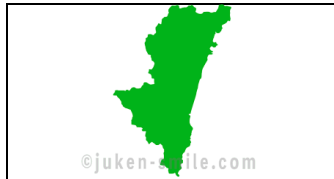
()

④6



()

④7



()

都道府県の形（シルエット）クイズ

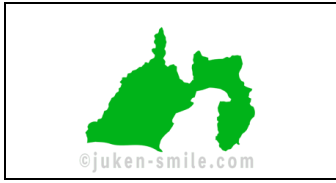
次の形の都道府県名を書きましょう。

①



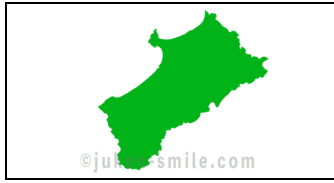
東京都

②



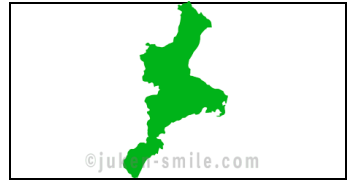
静岡県

③



秋田県

④



三重県

⑤



北海道

⑥



兵庫県

⑦




鳥取県

⑧



徳島県

⑨



岡山県

⑩



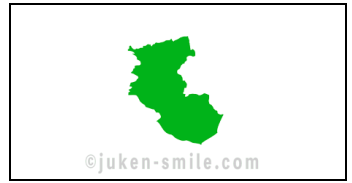
愛媛県

⑪



愛知県

⑫




和歌山県

⑬



長野県

⑭




山梨県

⑮



鹿児島県

⑯



富山県

⑰



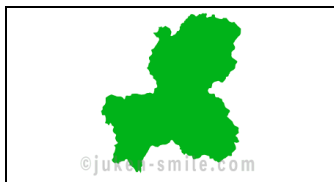
岩手県

⑱



沖縄県

⑲



岐阜県

⑳



石川県

都道府県の形（シルエット）クイズ

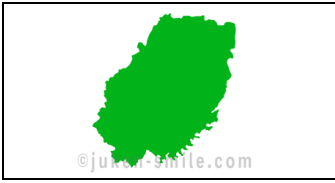
次の形の都道府県名を書きましょう。

②1



福岡県

②2




岩手県

②3



香川県

②4



大阪府

②5



千葉県

②6



茨城県

②7



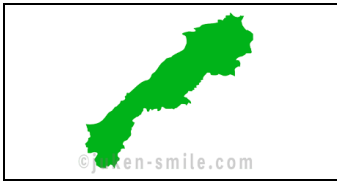
高知県

②8



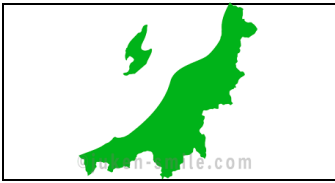
神奈川県

②9



島根県

③0



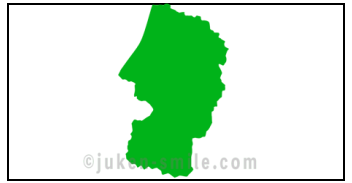
新潟県

③1



広島県

③2



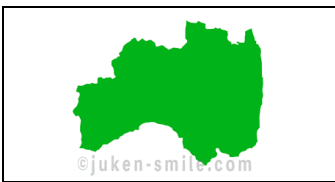
山形県

③3



群馬県

③4



福島県

③5



長崎県

③6



埼玉県

③7



熊本県

③8



京都府

③9



福井県

④0



奈良県

都道府県の形（シルエット）クイズ

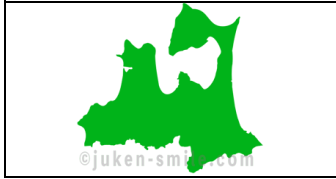
次の形の都道府県名を書きましょう。

④①



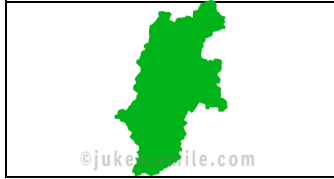
山口県

④②



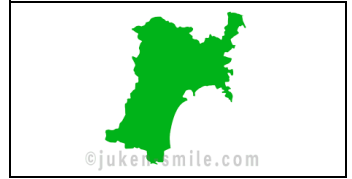
青森県

④③



長野県

④④



宮城県

④⑤



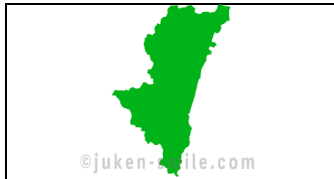
佐賀県

④⑥



大分県

④⑦



宮崎県