

都道府県の形（シルエット）クイズ

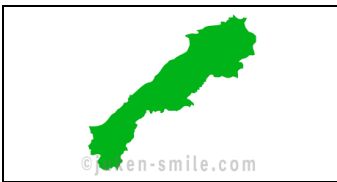
次の形の都道府県名を書きましょう。

①



()

②




()

③



()

④



()

⑤



()

⑥



()

⑦



()

⑧



()

⑨



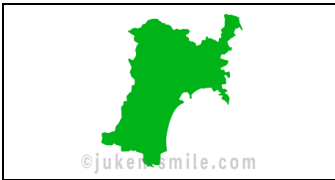
()

⑩



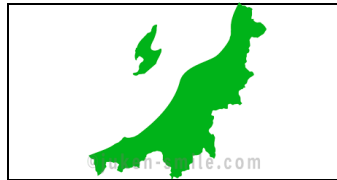
()

⑪



()

⑫



()

⑬



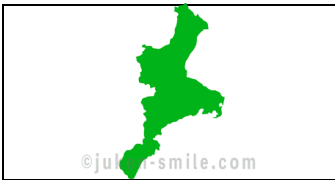
()

⑭




()

⑮



()

⑯



()

⑰



()

⑱



()

⑲



()

⑳



()

都道府県の形（シルエット）クイズ

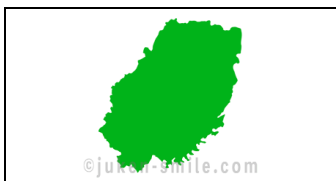
次の形の都道府県名を書きましょう。

㉑



()

㉒



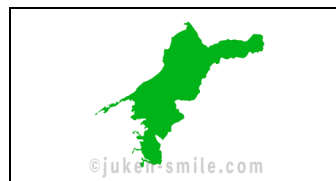
()

㉓



()

㉔



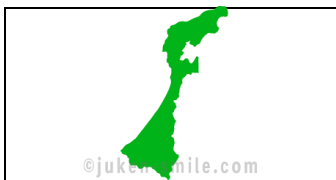
()

㉕



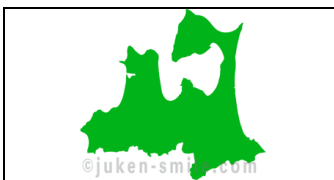
()

㉖



()

㉗



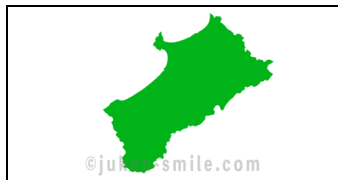
()

㉘



()

㉙



()

㉚




()

㉛



()

㉜



()

㉝



()

㉞



()

㉟



()

㊱



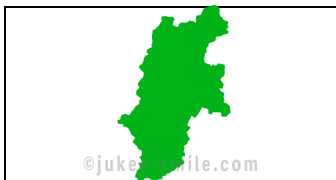
()

㊲



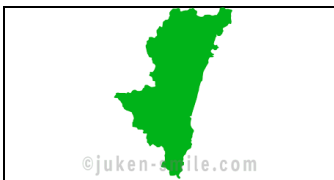
()

㊳



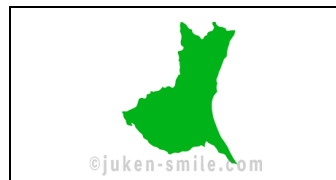
()

㊴



()

㊵



()

都道府県の形（シルエット）クイズ

次の形の都道府県名を書きましょう。

④1



()

④2



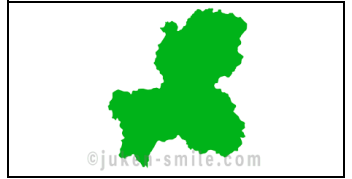
()

④3



()

④4



()

④5



()

④6



()

④7




()

都道府県の形（シルエット）クイズ

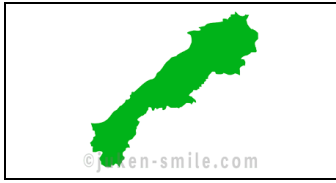
次の形の都道府県名を書きましょう。

①



埼玉県

②




島根県

③




長崎県

④




香川県

⑤



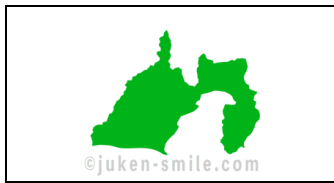
沖縄県

⑥



滋賀県

⑦




静岡県

⑧



鹿児島県

⑨



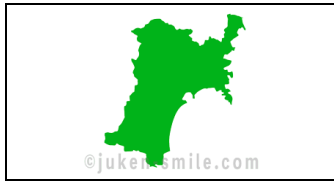
福井県

⑩



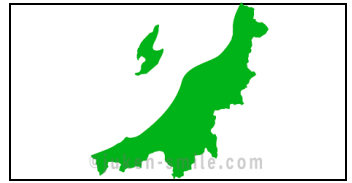
京都府

⑪



宮城県

⑫



新潟県

⑬



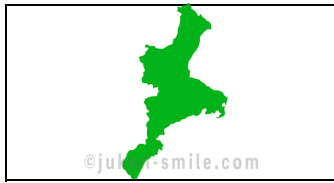
広島県

⑭



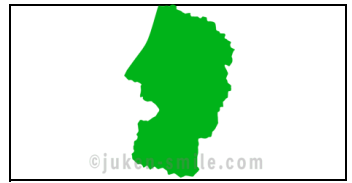
愛知県

⑮



三重県

⑯



山形県

⑰



和歌山県

⑱



佐賀県

⑲



山梨県

⑳

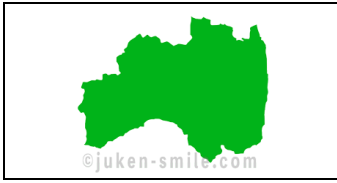


福岡県

都道府県の形（シルエット）クイズ

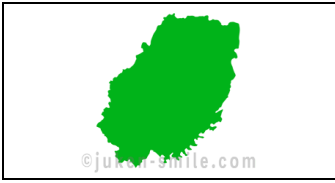
次の形の都道府県名を書きましょう。

②1




福島県

②2



岩手県

②3




奈良県

②4



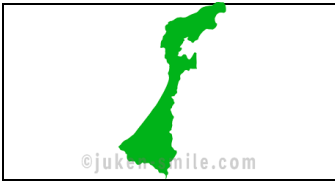
愛媛県

②5



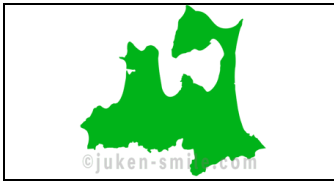
大阪府

②6




石川県

②7



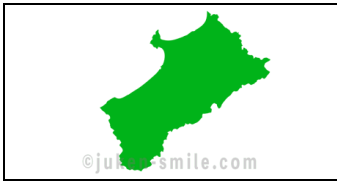
青森県

②8




神奈川県

②9




秋田県

③0




鳥取県

③1



大分県

③2



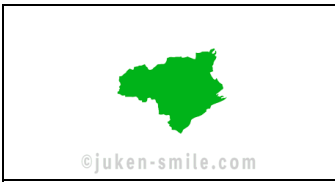
富山県

③3



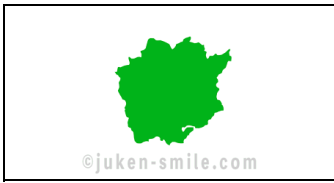
栃木県

③4



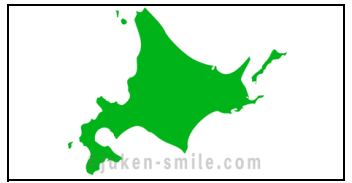
徳島県

③5



岡山県

③6



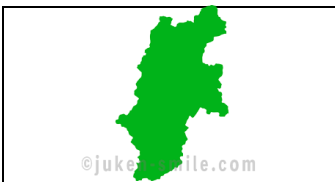
北海道

③7



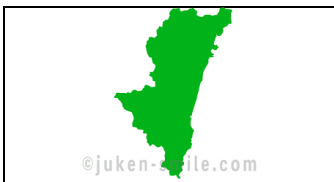
熊本県

③8



長野県

③9



宮崎県

④0



茨城県

都道府県の形（シルエット）クイズ

次の形の都道府県名を書きましょう。

④①



千葉県

④②



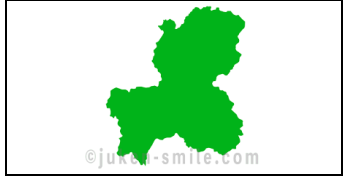
群馬県

④③



兵庫県

④④



岐阜県

④⑤



山口県

④⑥



高知県

④⑦



東京都