


都道府県の形（シルエット）クイズ

次の形の都道府県名を書きましょう。

①



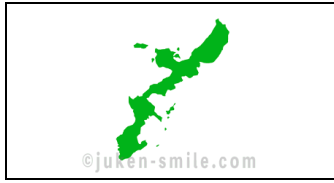
()

②



()

③



()

④



()

⑤



()

⑥



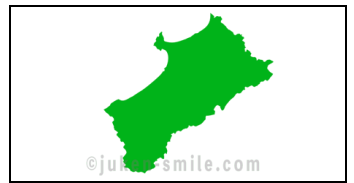
()

⑦



()

⑧



()

⑨



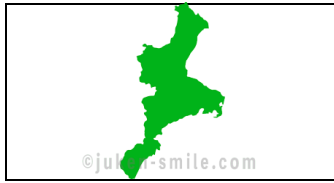
()

⑩




()

⑪



()

⑫




()

⑬



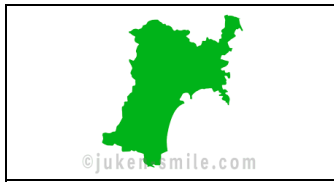
()

⑭



()

⑮



()

⑯



()

⑰



()

⑱



()

⑲



()

⑳



()

都道府県の形（シルエット）クイズ

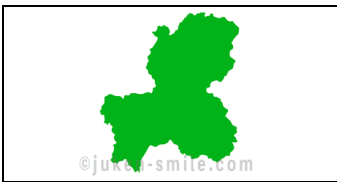
次の形の都道府県名を書きましょう。

②1



()

②2



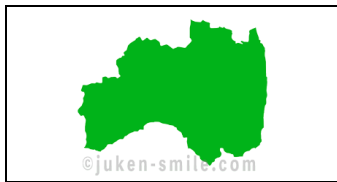
()

②3



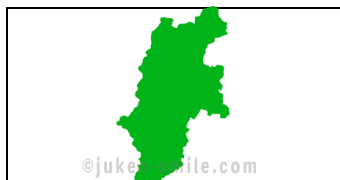
()

②4



()

②5



()

②6



()

②7



()

②8



()

②9



()

③0



()

③1



()

③2



()

③3



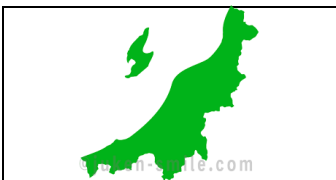
()

③4



()

③5



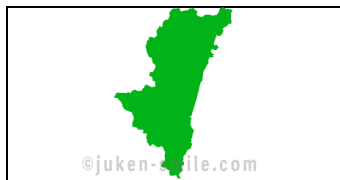
()

③6



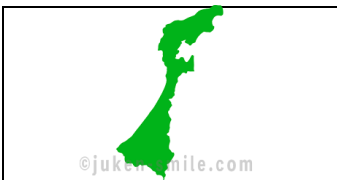
()

③7



()

③8



()

③9



()

④0



()

都道府県の形（シルエット）クイズ

次の形の都道府県名を書きましょう。

④1



()

④2



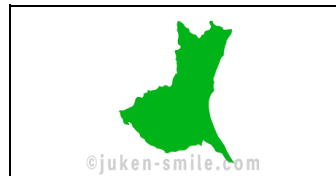
()

④3



()

④4



()

④5



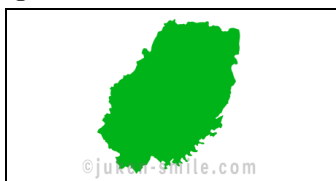
()

④6



()

④7




()

都道府県の形（シルエット）クイズ

次の形の都道府県名を書きましょう。

①



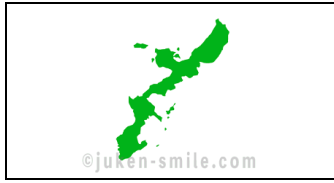
滋賀県

②



愛知県

③



沖縄県

④



香川県

⑤



鳥取県

⑥



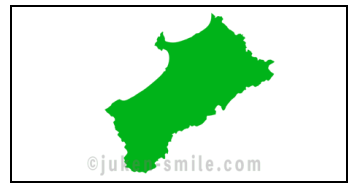
山口県

⑦



大阪府

⑧



秋田県

⑨



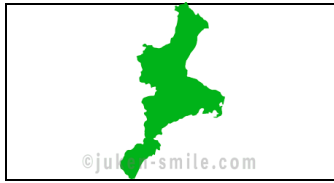
埼玉県

⑩




栃木県

⑪



三重県

⑫




奈良県

⑬



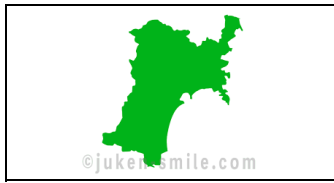
佐賀県

⑭



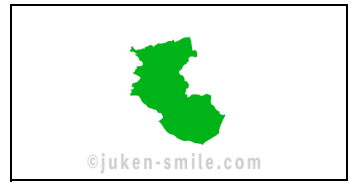
富山県

⑮



宮城県

⑯




和歌山県

⑰



熊本県

⑱



島根県

⑲



静岡県

⑳

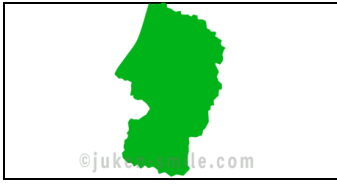


鹿児島県

都道府県の形（シルエット）クイズ

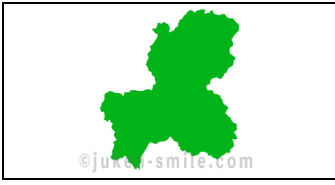
次の形の都道府県名を書きましょう。

②1




山形県

②2



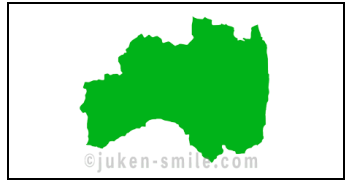
岐阜県

②3



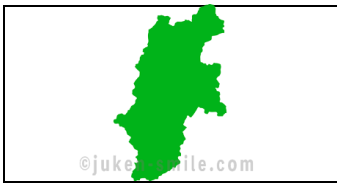
岡山県

②4



福島県

②5



長野県

②6



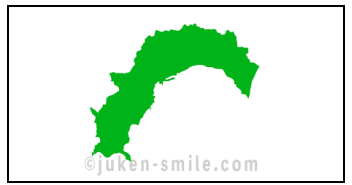
長崎県

②7



広島県

②8



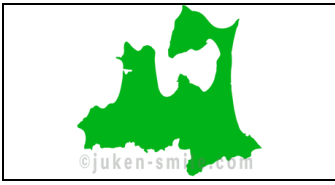
高知県

②9




千葉県

③0



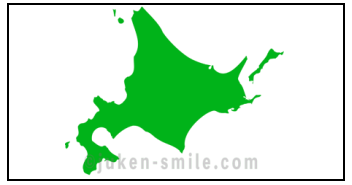
青森県

③1



福井県

③2



北海道

③3



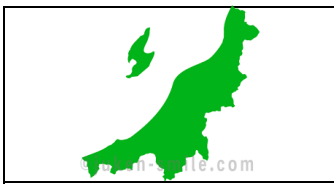
山梨県

③4



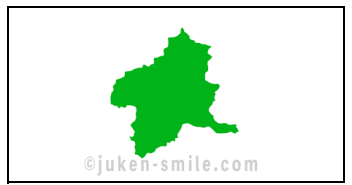
京都府

③5



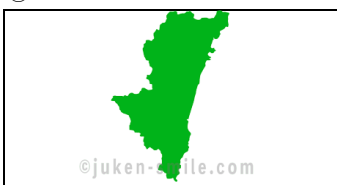
新潟県

③6



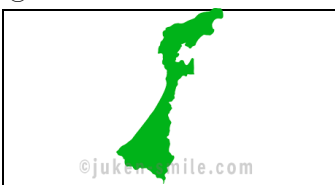
群馬県

③7



宮崎県

③8



石川県

③9



東京都

④0



福岡県

都道府県の形（シルエット）クイズ

次の形の都道府県名を書きましょう。

④①



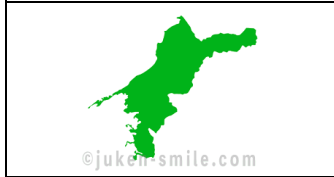
神奈川県

④②



大分県

④③



愛媛県

④④



茨城県

④⑤



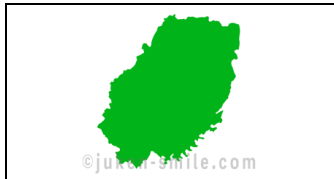
徳島県

④⑥



兵庫県

④⑦



岩手県