

# 都道府県の形（シルエット）クイズ

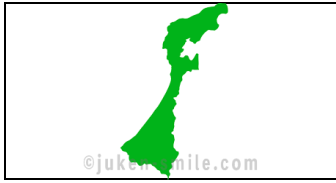
次の形の都道府県名を書きましょう。

①



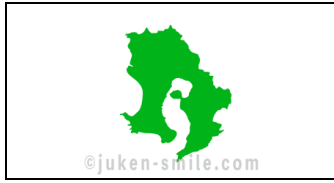
(                      )

②



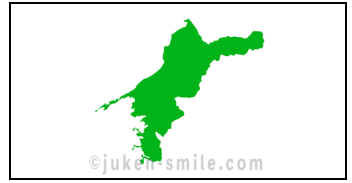
(                      )

③



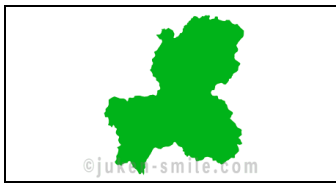
(                      )

④




(                      )

⑤



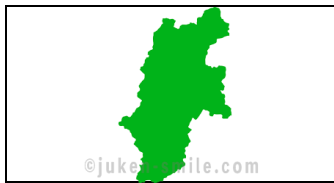
(                      )

⑥



(                      )

⑦



(                      )

⑧



(                      )

⑨



(                      )

⑩



(                      )

⑪



(                      )

⑫



(                      )

⑬




(                      )

⑭



(                      )

⑮



(                      )

⑯



(                      )

⑰



(                      )

⑱



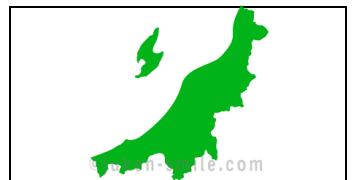
(                      )

⑲



(                      )

⑳




(                      )

# 都道府県の形（シルエット）クイズ

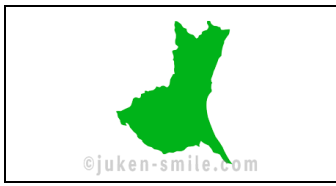
次の形の都道府県名を書きましょう。

㉑



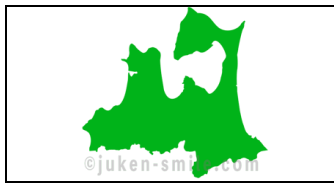
(                      )

㉒



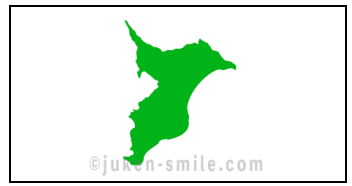
(                      )

㉓



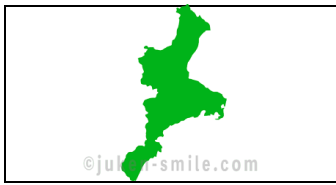
(                      )

㉔




(                      )

㉕



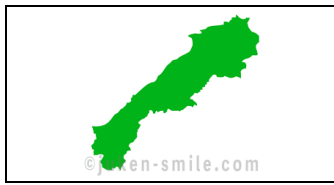
(                      )

㉖



(                      )

㉗



(                      )

㉘



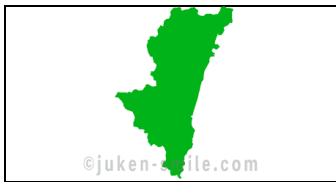
(                      )

㉙



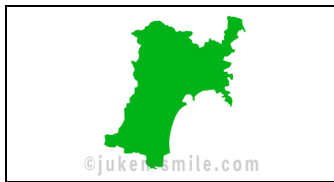
(                      )

㉚



(                      )

㉛



(                      )

㉜



(                      )

㉝



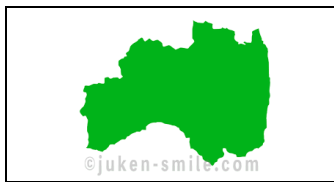
(                      )

㉞



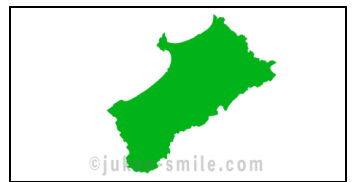
(                      )

㉟



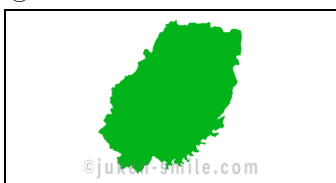
(                      )

㊱



(                      )

㊲




(                      )

㊳



(                      )

㊴



(                      )

㊵



(                      )

# 都道府県の形（シルエット）クイズ

次の形の都道府県名を書きましょう。

④1



(                      )

④2



(                      )

④3



(                      )

④4



(                      )

④5



(                      )

④6



(                      )

④7



(                      )

## 都道府県の形（シルエット）クイズ

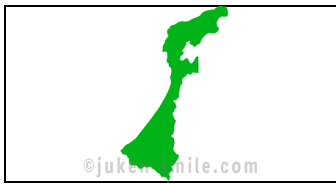
次の形の都道府県名を書きましょう。

①




山梨県

②



石川県

③



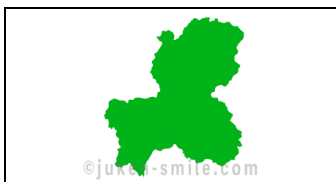
鹿児島県

④




愛媛県

⑤



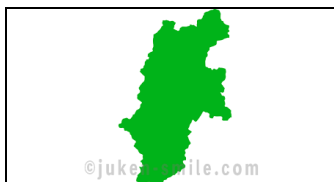
岐阜県

⑥



富山県

⑦




長野県

⑧



静岡県

⑨



沖縄県

⑩



東京都

⑪



長崎県

⑫



広島県

⑬




愛知県

⑭



大分県

⑮



神奈川県

⑯



埼玉県

⑰



京都府

⑱



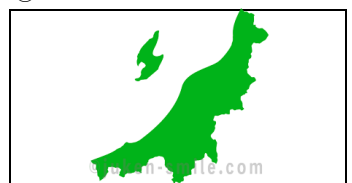
栃木県

⑲



福岡県

⑳




新潟県

## 都道府県の形（シルエット）クイズ

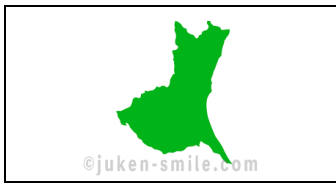
次の形の都道府県名を書きましょう。

②1



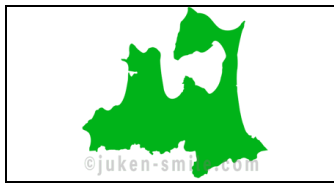
香川県

②2



茨城県

②3



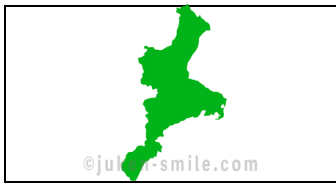
青森県

②4




千葉県

②5




三重県

②6



大阪府

②7



島根県

②8



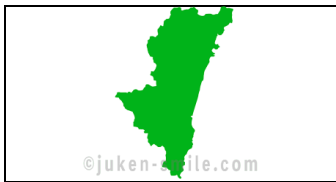
佐賀県

②9



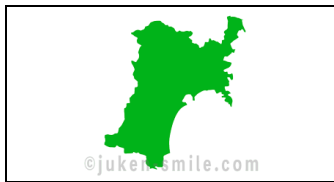
岡山県

③0



宮崎県

③1



宮城県

③2



山形県

③3



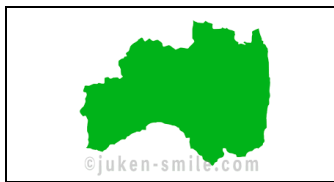
山口県

③4



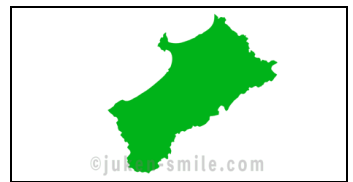
兵庫県

③5



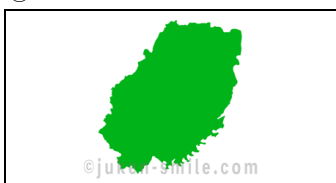
福島県

③6



秋田県

③7




岩手県

③8



滋賀県

③9



熊本県

④0



鳥取県

## 都道府県の形（シルエット）クイズ

次の形の都道府県名を書きましょう。

④1




群馬県

④2



北海道

④3



奈良県

④4



福井県

④5




徳島県

④6



和歌山県

④7



高知県